

کد کنترل

221

A



221A

صبح جمعه
۱۴۰۱/۰۴/۱۰



جمهوری اسلامی ایران
وزارت علوم، تحقیقات و فناوری
سازمان سنجش آموزش کشور

باید محصول دانشگاه‌های ما، دانشجوی انقلابی مثبت،
انقلابی فعال، انقلابی مسؤول، انقلابی متعهد و امیدوار باشد.
عقام معظم رهبری

آزمون سراسری ورودی دانشگاه‌ها و مؤسسات آموزش عالی کشور سال ۱۴۰۱

گروه آزمایشی علوم تجربی
آزمون اختصاصی (دفترچه شماره دو)

ردیف	مواد امتحانی	تعداد سؤال	از شماره	تا شماره	زمان پاسخ‌گویی	ملاحظات
۱	ریاضی	۳۰	۱۰۱	۱۳۰	۵۰ دقیقه	۸۰ سؤال
۲	زیست‌شناسی	۵۰	۱۳۱	۱۸۰	۴۰ دقیقه	۹۰ دقیقه

حق چاپ، تکثیر و انتشار سؤالات به هر روش (الکترونیکی و ...) پس از برگزاری آزمون، برای تمامی انجمن‌های علمی و حقوقی تنها با مجوز این سازمان مجاز می‌باشد و یا متخلین بر این مقرران رفتار می‌شود.

* داوطلب گرامی، عدم درج مشخصات و امضاء در مندرجات جدول ذیل، به منزله عدم حضور شما در جلسه آزمون است.

اینجانب..... با شماره داوطلبی..... با آگاهی کامل، یکسان بودن شماره صندلی خود را با شماره داوطلبی مندرج در بالای کارت ورود به جلسه، بالای پاسخنامه و دفترچه سوالات، نوع و کد کنترل درج شده بر روی دفترچه سوالات و پائین پاسخنامه را تأیید می‌نمایم.

امضاء:

۱۰۱- حاصل عبارت $\sqrt[3]{(3+\sqrt{7})^{-1}}\sqrt{1+\sqrt{7}}$ کدام است؟

- (۱) ۱ (۲) $\sqrt{2}$ (۳) ۲ (۴) $2\sqrt{2}$

۱۰۲- اگر ۸ و ۵ به ترتیب جملات پنجم و دهم یک الگوی خطی باشند، جمله شانزدهم کدام است؟

- (۱) $1/6$ (۲) $9/6$ (۳) $2/4$ (۴) $1/4$

۱۰۳- به ازای چند مقدار a ، سهمی $y = ax^2 + (3+2a)x$ از ناحیه سوم محورهای مختصات نمی‌گذرد؟

- (۱) هیچ مقدار a (۲) تمام مقادیر a (۳) ۱ (۴) ۲

۱۰۴- اگر $\frac{6-2x}{3x+1} \geq 0$ باشد، مجموعه مقادیر $[3x]$ چند عضو دارد؟

- (۱) ۵ (۲) ۶ (۳) ۷ (۴) ۸

۱۰۵- دو تابع $f(x) = b - 2ax$ و $g(x) = c - (2b - 2)x$ ثابت هستند. اگر $f + g = 5$ باشد، حاصل bc چقدر است؟

- (۱) -۶ (۲) -۴ (۳) ۴ (۴) ۶

۱۰۶- نمودار تابع با ضابطه $f(x) = 2x - x^2$ را در امتداد محور x ها، ۲ واحد در جهت منفی انتقال می‌دهیم. فاصله نقطه

برخورد منحنی حاصل با نمودار تابع f ، از مبدأ مختصات کدام است؟

- (۱) ۱ (۲) ۲ (۳) $2\sqrt{5}$ (۴) $\sqrt{10}$

۱۰۷- به ازای دو مقدار a ، یک ریشه معادله $2x^2 - 2x + 4 = 0$ ، سه برابر ریشه دیگر است. اختلاف این دو مقدار a ، کدام است؟

- (۱) ۸ (۲) ۹ (۳) ۱۶ (۴) ۱۸

۱۰۸- معادله $\frac{\sqrt{x+1}}{\sqrt{x-1+3}} - \frac{\sqrt{x+1}}{3-\sqrt{x-1}} = \frac{x-1}{\sqrt{x-1}}$ چند ریشه مثبت دارد؟

- (۱) صفر (۲) ۱ (۳) ۲ (۴) ۳

۱۰۹- وارون تابع $y = x^2 - x + 1$ از کدام نقطه عبور می کند؟

- (۱) $(-1, -2)$ (۲) $(\frac{5}{8}, \frac{1}{2})$ (۳) $(1, 2)$ (۴) $(-\frac{1}{2}, -\frac{11}{8})$

۱۱۰- اگر $g \circ f(x) = 5x^2 + 11$ و $f(x) = 2x$ باشد، کمترین مقدار $g(x-7)$ چقدر است؟

- (۱) ۳ (۲) ۷ (۳) ۹ (۴) ۱۱

۱۱۱- تابع $f(x) = (-9 + k^2)x^2 + 5$ اکیداً نزولی است. مجموع مقادیر صحیح k چقدر است؟

- (۱) صفر (۲) ۱ (۳) ۲ (۴) ۶

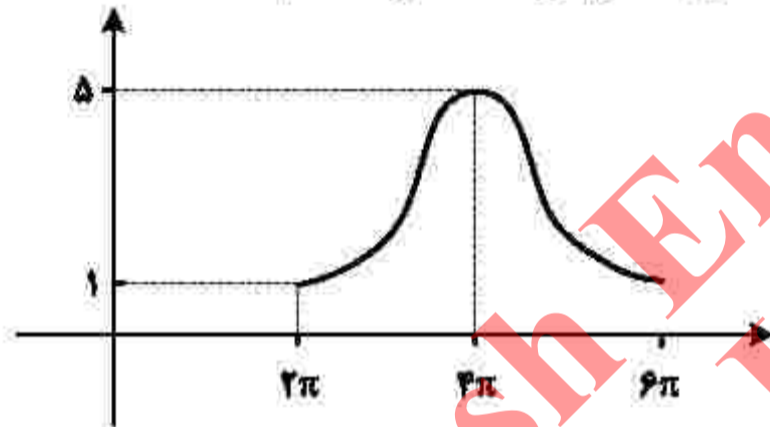
۱۱۲- اگر $-\frac{\pi}{4} < x < \frac{\pi}{4}$ و $\tan(\frac{\pi}{4} - x) = \frac{1-m}{2+m}$ باشد، مجموعه مقادیر m کدام است؟

- (۱) $(-2, 1)$ (۲) $(-2, 1]$ (۳) $(-1, 2]$ (۴) $(-1, 2)$

۱۱۳- اگر $\frac{4}{3} = 2 \sin^2 x + \cos^2 x$ باشد، حاصل $\tan^2 x$ کدام است؟ ($x \neq 0$)

- (۱) $\frac{2}{3}$ (۲) $\frac{2}{3}$ (۳) $\frac{1}{2}$ (۴) $\frac{1}{4}$

۱۱۴- شکل زیر، نمودار تابع $y = c + a \cos bx$ را در یک دوره تناوب، نشان می دهد. مقدار c کدام است؟



(۱) ۵

(۲) ۴

(۳) ۳

(۴) ۱

۱۱۵- تعداد جواب‌های معادله مثلثاتی $\lambda \cos x - \tan^2 x = 1$ در بازه $[0, 2\pi]$ کدام است؟

- (۱) ۵ (۲) ۴ (۳) ۳ (۴) ۲

۱۱۶- اگر $\log_8 18 = m$ باشد، حاصل $\log_4 12$ کدام است؟

- (۱) $\frac{3}{4}(m+1)$ (۲) $\frac{3m+1}{4}$ (۳) $\frac{3}{4}(m-1)$ (۴) $\frac{3m-1}{4}$

۱۱۷- تابع $f(x) = a + b\left(\frac{1}{4}\right)^x$ از مبدأ مختصات عبور می‌کند. اگر $f^{-1}(-1) = -1$ باشد، حاصل $a - b$ چقدر است؟

- (۱) صفر (۲) ۱ (۳) ۲ (۴) ۳

۱۱۸- ۹ داده آماری را در نظر بگیرید. اختلاف هشت داده آماری، از میانگین برابر +۱ یا -۱ و اختلاف یک داده از میانگین برابر صفر است. انحراف معیار این داده‌ها، کدام است؟

- (۱) $\sqrt{2}$ (۲) $2\sqrt{2}$ (۳) $\frac{2}{3}$ (۴) $\frac{2\sqrt{2}}{3}$

۱۱۹- داده‌های جمع‌آوری شده در یک مطالعه آماری اعداد طبیعی متوالی هستند. اگر به همه داده‌ها ۲ واحد بیافزاییم،

اختلاف میانه و میانگین داده‌های جدید چقدر است؟

- (۱) صفر (۲) ۱ (۳) ۲ (۴) ۴

۱۲۰- حاصل $\lim_{x \rightarrow 2^+} \frac{x^2 - 4}{x^2 - [x^2]}$ کدام است؟

- (۱) صفر (۲) $\frac{1}{3}$ (۳) ۱ (۴) $+\infty$

۱۲۱- اگر $g(x) = \frac{\sqrt{ax^2 + bx + c}}{|x-1|}$ و $\lim_{x \rightarrow 1^+} (2 - [x])g(x) = 6$ باشد، حاصل $\lim_{x \rightarrow +\infty} g(x)$ کدام است؟

- (۱) -۱ (۲) ۱ (۳) ۲ (۴) -۲

محل انجام محاسبات

Danesh Jahanshahi
Karaj

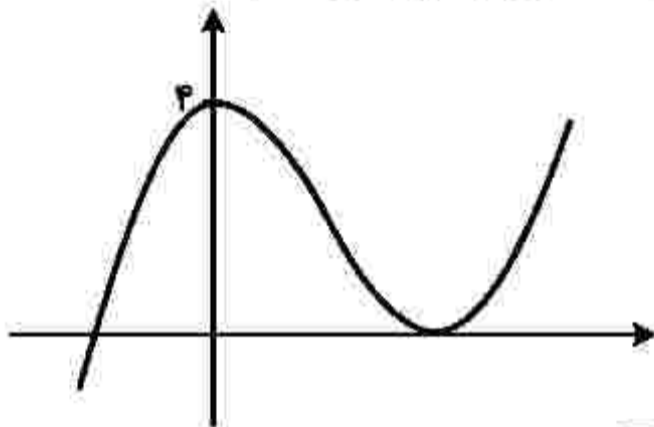
۱۲۲- اگر $f(x) = x \left(\sqrt{2x+1} \right)^2$ باشد، حاصل $\lim_{x \rightarrow 0} \frac{f(x)}{x}$ کدام است؟

- (۱) $\frac{1}{27}$ (۲) $\frac{1}{9}$ (۳) $\frac{2}{7}$ (۴) $\frac{3}{14}$

۱۲۳- معادله خط مماس بر نمودار $y = \frac{x^2 + mx + 1}{x + 3}$ در نقطه‌ای به طول واحد بر روی نمودار، به صورت $4y - 3x = n$ است. مقدار $m + n$ چقدر است؟

- (۱) -۳ (۲) -۲ (۳) ۲ (۴) ۳

۱۲۴- نمودار تابع $f(x) = x^3 + ax^2 + bx + c$ به صورت زیر است. طول نقطه مینیمم نسبی تابع، کدام است؟



- (۱) $\frac{1}{2}$ (۲) ۲ (۳) $\frac{3}{2}$ (۴) ۳

۱۲۵- از بین مخروط‌های حاصل که از دوران کامل پاره خط AB با اندازه $2\sqrt{3}$ حول خط L به دست می‌آیند، ارتفاع مخروطی با بیشترین حجم، کدام است؟ (فقط نقطه A روی خط L واقع است.)

- (۱) ۶ (۲) ۳ (۳) $2\sqrt{3}$ (۴) $\sqrt{3}$

۱۲۶- کتاب در موضوعات مختلف که ریاضی، فیزیک و زیست هم جزو آنهاست، در اختیار داریم. به چند طریق می‌توان کتاب را طوری انتخاب کرد که اگر ریاضی انتخاب شود، زیست نیز انتخاب شود و اگر فیزیک انتخاب شود، زیست انتخاب نشود؟

- ۱۰ (۱) ۱۱ (۲) ۱۵ (۳) ۱۶ (۴)

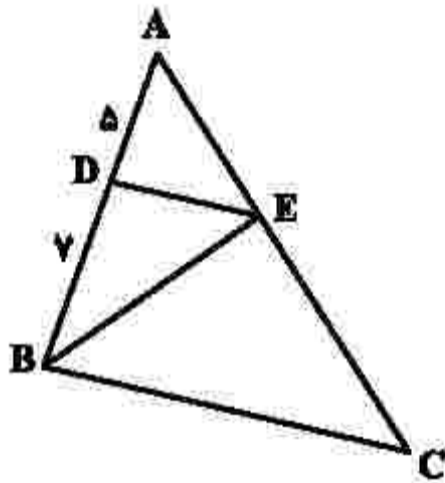
۱۲۷- احتمال شیوع یک بیماری در جامعه‌ای برابر 0.08 و احتمال بهبود یافتن فرد مبتلا به این بیماری برابر 0.8 است. احتمال این که فردی از این جامعه به این بیماری مبتلا شود و بهبود یابد، چند درصد است؟

- ۰.۰۲ (۱) ۰.۰۴ (۲) ۲ (۳) ۴ (۴)

۱۲۸- سه ضلع یک مثلث به معادلات $AB: y + 2x = 7$ ، $AC: 2y - 3x = 17$ و $BC: 2y - 7x = -19$ هستند. طول ارتفاع BH ، کدام است؟

- ۴/۴ (۱) ۳ (۲) ۲/۵ (۳) ۱ (۴)

۱۲۹- در مثلث ABC ، ضلع BC موازی ضلع DE است. مساحت مثلث BCE ، چند برابر مساحت مثلث BDE است؟



- ۱/۵ (۱)
۱/۷ (۲)
۲/۱ (۳)
۲/۴ (۴)

۱۳۰- نقطه $(-12, 0)$ یکی از کانون‌های یک بیضی است که طول قطر کوچک آن برابر 18 است. اگر مبدأ مختصات مرکز بیضی باشد، خروج از مرکز بیضی، چقدر است؟

- ۰/۶ (۱) ۰/۸ (۲) ۱/۴ (۳) ۱/۸ (۴)

محل انجام محاسبات

Danesh Jahanshahi
Karaj

۱۳۶- کدام مورد، برای تکمیل عبارت زیر نامناسب است؟

«به‌طور معمول، هر گیاهی که برای نیازمند است، دارد.»

- (۱) بقا به زمین ساقه - سامانه‌ای برای ترابری مواد
- (۲) گرده‌افشانی به حشرات - در تشکیل برگ‌های رویانی نقش
- (۳) تکثیر به یاخته دوهسته‌ای - یاخته‌های مرده و دوکی شکل و دراز
- (۴) تولیدمثل به یاخته‌های جنسی شناگر - به تعداد پرچه‌ها در داخل تخمدان، فضا

۱۳۷- کدام مورد، عبارت زیر را به‌طور مناسب کامل می‌کند؟

«در مولکول انسولین، همانند مولکول

- (۱) هموگلوبین، رشته پلی‌پپتیدی ساختار فشرده و نامتقارنی به خود می‌گیرد.
- (۲) هموگلوبین، زنجیره‌های پلی‌پپتیدی یکسان در کنار یکدیگر قرار می‌گیرند.
- (۳) میوگلوبین، همه گروه‌های R آمینواسیدهای آب‌گریز در بخش بیرونی ساختار قرار می‌گیرند.
- (۴) میوگلوبین، با شکسته شدن هر نوع پیوند شیمیایی، همه سطوح ساختاری پروتئین تغییر می‌یابد.

۱۳۸- چند مورد، درباره پرندگان درست است؟

- همه کیسه‌های هوادار جلویی همانند اغلب کیسه‌های هوادار عقبی، به صورت جفت وجود دارند.
- همه کیسه‌های هوادار عقبی همانند همه کیسه‌های هوادار جلویی، به تبادل گازهای تنفسی کمک می‌کنند.
- همه کیسه‌های هوادار عقبی همانند اغلب کیسه‌های هوادار جلویی، در محل دو شاخه شدن نای قرار دارند.
- همه کیسه‌های هوادار جلویی همانند همه کیسه‌های هوادار عقبی، در پی حرکات میان‌بند (دیافراگم) تغییر حجم می‌دهند.

(۱) یک (۲) دو (۳) سه (۴) چهار

۱۳۹- کدام مورد، برای تکمیل عبارت زیر مناسب است؟

«در نوعی جانور بی‌مهره، آبشش‌ها به نواحی خاصی محدود می‌شوند. در این جانور،

(۱) انشعابات حفره گوارشی به تمام نواحی بدن نفوذ می‌کند.

(۲) نوعی سازوکار تهویه‌ای، تبدلات گازی را ممکن می‌سازد.

(۳) مواد دفعی نیتروژن‌دار از طریق عضو ویژه تنفسی دفع می‌شود.

(۴) رشته‌های عصبی با یاخته‌های مژک‌دار خط جانبی تماس دارند.

۱۴۰- در گیاه زنبق، با فرض این‌که ژن نمود (ژنوتیپ) درون دانه ABB است، کدام مورد درباره ژن نمود یاخته سازنده دانه

گرده نارس و یاخته بافت خورش غیرممکن است؟

(۱) AA و AB (۲) AA و AB (۳) AB و AB (۴) AA و BB

۱۴۱- کدام مورد، برای تکمیل عبارت زیر مناسب است؟

«در انسان سالم، حسی موجود در گوش درونی،

(۱) هر گیرنده - می‌تواند در پی لرزش دریاچه بیضی تحریک شود.

(۲) هر گیرنده - در ارسال پیام عصبی به سمت بخش اصلی مغز دخالت دارد.

(۳) فقط بعضی از گیرنده‌های - نوعی گیرنده حس وضعیت محسوب می‌شوند.

(۴) فقط بعضی از گیرنده‌های - به دنبال حرکت مایع درون مجرای شنوایی تحریک می‌شوند.

۱۴۲- چند مورد برای تکمیل عبارت زیر مناسب است؟

«در یک خانم جوان، اندامی وجود دارد که علاوه بر این که گیرنده هورمون را دارد، می تواند مستقیماً تحت تأثیر ترشحات خارج شده از بخش غده هیپوفیز نیز قرار گیرد.»

- | | |
|-----------------------|---------------------------|
| • LH - پیشین | • T _p - پیشین |
| • پاراتیروئیدی - پسین | • قشر غده فوق کلیه - پسین |
| (۱) یک | (۲) دو |
| (۳) سه | (۴) چهار |

۱۴۳- کدام عبارت، درباره شبکه هادی قلب یک فرد سالم نادرست است؟

- (۱) دسته تارهای تخصص یافته دهلیزی، ابتدا در سراسر دیواره دهلیز گسترش می یابد.
- (۲) جریان الکتریکی از طریق سه مسیر بین گرهی، به گره دهلیزی بطنی منتقل می شود.
- (۳) دسته تارهای ماهیچه ای تخصص یافته، پس از گره دهلیزی بطنی به دو شاخه تقسیم می شود.
- (۴) جریان الکتریکی توسط یک دسته تار عضلانی تخصص یافته از گره سینوسی دهلیزی به دهلیز چپ هدایت می شود.

۱۴۴- کدام مورد، برای تکمیل عبارت زیر مناسب است؟

«نوعی تنظیم کننده رشد گیاهی می تواند علاوه بر تولید میوه های بدون دانه، در شرایطی از تشکیل لایه جداکننده

برگ ممانعت به عمل آورد. این تنظیم کننده رشد،»

- (۱) مانع رویش دانه و رشد جوانه ها در شرایط نامساعد محیط می شود.
- (۲) همواره مانع تبدیل مریستم رویشی به مریستم زایشی ساقه می شود.
- (۳) می تواند تولید نوعی هورمون بازدارنده را در جوانه های جانبی ساقه تحریک کند.
- (۴) همواره در مقادیر زیاد و در حضور مقادیر اندکی از نوعی هورمون محرک رشد، باعث ساقه زایی می شود.

۱۴۵- کدام مورد، برای تکمیل عبارت زیر مناسب است؟

«ترشحات بزرگ ترین غده بزاقی انسان،»

- (۱) توسط بالاترین بخش ساقه مغز تنظیم می شود.
- (۲) همواره تحت تأثیر یک محرک طبیعی تحریک می شود.
- (۳) ابتدا از طریق مجرای بزاقی به زیر زبان تخلیه می شود.
- (۴) توسط مجرای در نزدیکی دندان های فک بالا خارج می شود.

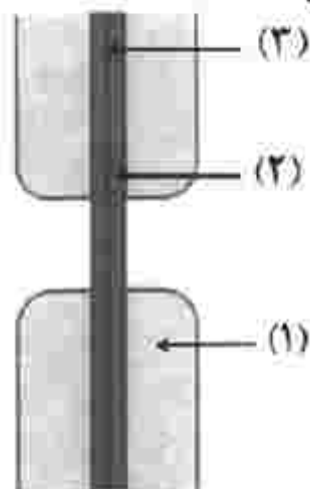
۱۴۶- چند مورد، از اهداف روش های معمول در زیست فناوری است؟

- تشخیص ژن های جهش یافته در بیماران
 - افزایش تمایل آنزیم برای اتصال به پیش ماده
 - بررسی دنا (DNA) ی یک جاندار سنگواره شده
 - افزایش پایداری نوعی محصول ژنی با استفاده از نوعی جهش
- | | |
|--------|----------|
| (۱) یک | (۲) دو |
| (۳) سه | (۴) چهار |

۱۴۷- کدام عبارت نادرست است؟

- (۱) هر زنبور عسل کارگر، با استفاده از فرومون با سایر افراد گروه ارتباط برقرار می کند.
- (۲) فقط بعضی از مورچه های برگ بر کارگر، وظیفه دفاع از برگ برش یافته را برعهده دارند.
- (۳) هر زنبور عسل کارگر، به دنبال دو برابر شدن فام تن (کروموزوم) های موجود در تخمک ملکه به وجود می آید.
- (۴) فقط بعضی از مورچه های برگ بر کارگر، برگ ها را جهت پرورش نوعی محصول زراعی به لانه حمل می کنند.

۱۴۸- با توجه به شکل زیر که نوعی ساختار را در گیاهان نشان می‌دهد، کدام عبارت درست است؟



- (۱) بخش (۲) همانند بخش (۳)، حاصل فعالیت ریزکیسه (وزیکول)‌های دو غشایی است.
 (۲) بخش (۳) برخلاف بخش (۱)، به‌طور عمده حاوی ترکیبی است که همانند چسب عمل می‌کند.
 (۳) بخش (۳) برخلاف بخش (۱)، غشای ریزکیسه (وزیکول)‌ها و ترکیبات سلولزی را دریافت کرده است.
 (۴) بخش (۱) همانند بخش (۲)، به‌طور عمده حاوی مونوساکاریدهای پنج‌کربنی است که به‌صورت موازی قرار گرفته‌اند.
 کدام مورد درست است؟

- (۱) در همه گیاهانی که در شدت نور بالا CO_2 از دست می‌دهند، هنگام تجزیه هر ماده آلی، ATP تولید می‌شود.
 (۲) در همه گیاهانی که نشاسته را در درون یاخته‌های میانبرگ می‌سازند، آنزیم تثبیت‌کننده CO_2 جو، به هنگام روز فعالیت می‌کند.
 (۳) در همه گیاهانی که آنزیم تثبیت‌کننده CO_2 در آنها نسبت به اکسیژن حساسیتی ندارد، مولکول NADPH هنگام روز اکسایش می‌یابد.
 (۴) در همه گیاهانی که میزان CO_2 را در محل عملکرد آنزیم روپیسکو بالا نگه می‌دارند، هر اسید سه‌کربنی، پس از تولید به یاخته دیگری منتقل می‌شود.

۱۵۰- چند مورد، عبارت زیر را به‌طور مناسب کامل می‌کند؟

- «در ساقه هوایی یک گیاه علفی، هر سامانه بافتی که محتوی یاخته‌های آبی است،»
- دراز و فیبری شکل - یاخته‌هایی با دیواره نازک و انعطاف‌پذیر نیز دارد.
 - با دیواره نخستین ضخیم - به عدسک‌های کوچک و برجسته‌ای نیاز دارد.
 - نرم‌آکنه‌ای (پاراتشیمی) - در فتوسنتز و ذخیره مواد نقش اصلی را ایفا می‌کند.
 - سبزینه (کلروفیل) دار - می‌تواند مستقیماً از انتشار بخار آب به محیط اطراف گیاه معانعت به‌عمل آورد.
- (۱) یک (۲) دو (۳) سه (۴) چهار

۱۵۱- کدام مورد، برای تکمیل عبارت زیر نامناسب است؟

- «به‌طور معمول، بخشی از کلیه انسان در نزدیکی است که»
- (۱) غده‌ای - ضربان قلب و فشارخون را افزایش می‌دهد.
 (۲) اندامی - آنزیم‌های گوارشی و بیکربنات تولید می‌کند.
 (۳) اندامی - به از بین بردن میکروب‌های بیماری‌زا و یاخته‌های سرطانی کمک می‌کند.
 (۴) ماهیچه‌هایی - مواد غذایی بلع‌شده را به درون بخش کیسه‌ای شکل لوله گوارش وارد می‌کند.

۱۵۲- در خصوص همهٔ یاخته‌هایی که در پایان تقسیم کاستمان (میوز) در یک گل دوجنسی ایجاد می‌شوند، کدام عبارت درست است؟

- ۱) توسط یاخته‌هایی با دو مجموعه فام‌تن (کروموزوم) احاطه شده‌اند.
- ۲) در بخش متورم گل، مراحل تمایز و تکامل خود را آغاز می‌کنند.
- ۳) یک یا چند تقسیم رشتمان (میتوز) انجام می‌دهند.
- ۴) دیوارهٔ خارجی و دیوارهٔ داخلی دارند.

۱۵۳- در مطالعهٔ دو بیماری هموفیلی و کم‌خونی داسی‌شکل، با فرض این‌که مادر خالص و فقط یکی از والدین بیمار باشد، در شرایط معمول، تولد کدام فرزند برای همهٔ حالات ممکن است؟

- ۱) دختر بیمار
- ۲) دختر سالم و ناخالص
- ۳) پسر بیمار
- ۴) پسر سالم و خالص

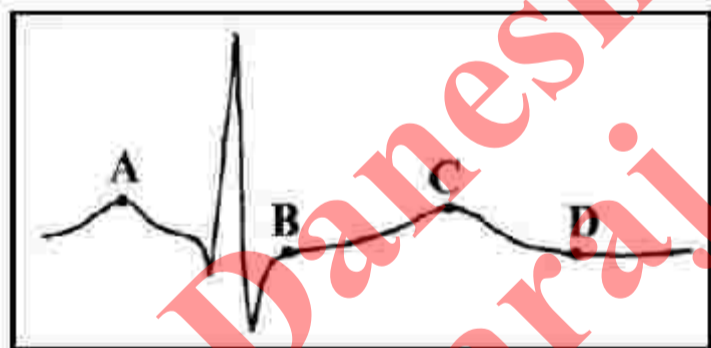
۱۵۴- چند مورد، برای تکمیل عبارت زیر مناسب است؟

«با توجه به فرایند ترجمه در یوکاریوت‌ها می‌توان بیان داشت: پس از آن‌که رنای ناقل (tRNA) رناتن (ریبوزوم) استقرار پیدا می‌کند، به‌طور حتم، منتقل خواهد شد.»

- در جایگاه A - tRNA ی بدون آمینواسید به جایگاه E
 - در جایگاه E - tRNA حامل یک آمینواسید به جایگاه A
 - حامل توالی آمینواسیدی در جایگاه P - tRNA بدون آمینواسید به جایگاه E
 - دارای پادرمز (آنتی‌کدون) UAC در جایگاه tRNA-P حامل آمینواسید به جایگاه A
- ۱) چهار ۲) سه ۳) دو ۴) یک

۱۵۵- کدام مورد، برای تکمیل عبارت زیر مناسب است؟

قلب در نقطه از نظر وضعیت درجهٔ سینی به نقطه شباهت و از نظر وضعیت درجهٔ دهلیزی بطنی با نقطه تفاوت دارد.»



- ۱) A-B-D
- ۲) B-D-C
- ۳) C-A-B
- ۴) C-D-A

۱۵۶- مطابق با مطالب کتاب درسی، کدام مورد، برای تکمیل عبارت زیر نامناسب است؟

- «در پی تغییر محیط کشت باکتری اشرشیاکلا، از محیطی که تنها قند آن است به محیطی که تنها قند آن است و به منظور تنظیم بیان ژن در این باکتری»
- ۱) لاکتوز - گلوکز - تغییر در ساختار مهارکننده به‌وجود می‌آید.
 - ۲) لاکتوز - مالتوز - نوعی پروتئین به رنابسپاراز متصل می‌شود.
 - ۳) مالتوز - لاکتوز - مهارکننده از فعالیت فعال‌کننده ممانعت به‌عمل می‌آورد.
 - ۴) گلوکز - لاکتوز - رنابسپاراز بر روی توالی نوکلئوتیدی مجاور راهانداز قرار می‌گیرد.

۱۵۷- کدام مورد، برای تکمیل عبارت زیر مناسب است؟

«در گیاه تک‌لپه گیاه دولپه»

- ۱) همانند - آوندهای آبکش رو به رو پوست رویی و آوندهای چوبی رو به رو پوست زیرین پهنک برگ قرار دارند.
- ۲) برخلاف - در یاخته‌های غلاف آوندی برگ، سبزدیسه (کلروپلاست)های فراوانی وجود دارد.
- ۳) برخلاف - میانبرگ از دو نوع یاخته پاراننشیمی (نرم‌آکنه‌ای) تشکیل شده است.
- ۴) همانند - تعداد روزنه‌ها در سطح زیرین برگ بیش از سطح زیرین آن است.

۱۵۸- در ارتباط با انسان، چند مورد عبارت زیر را به‌طور مناسب کامل می‌کند؟

هر استخوان با نوعی استخوان و نوعی استخوان مفصل متحرک تشکیل می‌دهد.

- * ساق پا - دراز - کوتاه
- * نیم‌لگن - دراز - نامنظم
- * ساعد - کوتاه - دراز
- * دنده - پهن - نامنظم

۱) یک (۲) دو (۳) سه (۴) چهار

۱۵۹- کدام مورد، برای تکمیل عبارت زیر مناسب است؟

«در نوعی گیاه، قرار دارند، در این گیاه به‌طور حتم»

- ۱) بر روی ریشه قطور، ریشه‌های فرعی فراوان - پوست ریشه کاملاً مشخص است.
- ۲) یاخته‌هایی حاوی سوپرین در مجاورت لایه ریشه‌زای ریشه - پوست ریشه کاملاً نازک است.
- ۳) دسته آوندهای چوبی و آبکش ساقه بر روی یک دایره - آوندهای چوبی قطور در مرکز ریشه قرار دارند.
- ۴) دسته آوندهای چوبی و آبکش ساقه بر روی دایره هم‌مرکز - یاخته‌هایی با دیواره نازک در مرکز ریشه قرار دارند.

۱۶۰-

عبارت زیر را به‌طور مناسب کامل می‌کند؟
 «صفت رنگ ذرت با سه جایگاه ژنی مورد بررسی قرار گرفته است و هر جایگاه دارای دو دگره (آلل) است. برای نشان دادن ژن‌ها در این سه جایگاه از حروف بزرگ و کوچک A, B و C استفاده می‌کنیم. با توجه به نمودار کتاب درسی، همه ژنوتیپ‌هایی که فقط دارند، هستند.»

- ۱) یک جایگاه ژنی خالص غالب - در فاصله یکسانی از ذرت کاملاً قرمز
- ۲) دو جایگاه ژنی ناخالص - به ذرت کاملاً سفید نزدیک‌تر از ذرت کاملاً قرمز
- ۳) دو جایگاه خالص مغلوب - به ذرت کاملاً قرمز نزدیک‌تر از ذرت کاملاً سفید
- ۴) یک جایگاه ژنی خالص غالب و یک جایگاه ژنی مغلوب - در فاصله یکسانی از ذرت کاملاً سفید و ذرت کاملاً قرمز

۱۶۱- کدام مورد برای تکمیل عبارت زیر مناسب است؟

«در بدن انسان، همه آنزیم‌ها همه کوآنزیم‌ها»

- ۱) برخلاف - همواره با تغییرات دما، تغییر شکل برگشت‌ناپذیری پیدا می‌کنند.
- ۲) برخلاف - در روند تنظیم سوخت و ساز یاخته‌ها مؤثرند.
- ۳) همانند - در ساختار خود اتم کربن دارند.
- ۴) همانند - فقط یک نوع واکنش را سرعت می‌بخشند.

۱۶۲- چند مورد، درباره ساختار حبابک‌های ریه انسان درست است؟

- * در سطح یاخته‌های نوع دوم زوائد ریزی یافت می‌شود.
- * فقط در بین دو یاخته نوع دوم مجاور، منفذی وجود دارد.
- * یاخته‌های نوع اول و یاخته‌های مویرگ‌ها، غشای پایه مشترک دارند.
- * فقط در سیتوپلاسم یاخته‌های نوع اول، شبکه‌ای از لوله‌ها و کیسه‌های گسترده وجود دارد.

۱) یک (۲) دو (۳) سه (۴) چهار

۱۶۳- کدام مورد، برای تکمیل عبارت زیر مناسب است؟

به‌طور معمول، مهره‌داران نری که برای انجام لقاح به محیط مایعی در اطراف یاخته جنسی خود نیاز دارند،
«.....»

- (۱) در همه - دفع یون‌ها از بدن منحصرأ از طریق کلیه‌ها صورت می‌گیرد.
- (۲) در همه - عموماً مغز زرد در مجرای مرکزی استخوان‌های دراز یافت می‌شود.
- (۳) فقط در بعضی از - فعالیت آنزیم‌های گوارشی در خارج از یاخته‌های بدن نیز صورت می‌گیرد.
- (۴) فقط در بعضی از - خون پس از تبادل مویرگی با تمام یاخته‌های بدن از طریق سیاهرگ شکم به قلب برمی‌گردد.

۱۶۴- کدام مورد، درباره یک تار ماهیچه‌ای دلتایی درست است؟

- (۱) سیانید می‌تواند با مهار تشکیل آب در فضای بین دو غشای راکیزه (میتوکندری) مانع ساخته شدن ATP شود.
- (۲) محصول حاصل از قندکافت (گلیکولیز) همواره از طریق نوعی پروتئین غشایی به درون راکیزه (میتوکندری) منتقل می‌شود.

(۳) پاداکسنده (آنتی‌اکسیدان)ها پس از اکسایش یافتن، می‌توانند نوکلئیک‌اسیدهای راکیزه (میتوکندری) را از اثرات مخرب رادیکال‌های آزاد حفظ کنند.

(۴) انرژی لازم برای انتقال H^+ ها به فضای بین دو غشای راکیزه (میتوکندری)، همواره از الکترون‌های $FADH_2$ و NADH حاصل از اکسایش گلوکز تأمین می‌شود.

۱۶۵- کدام مورد، عبارت زیر را به‌طور مناسب کامل می‌کند؟

«به‌طور معمول در انسان، هر نوع یاخته بنیادی که»

- (۱) بعد از جداسازی، قابل کشت دادن باشد، در بافت‌های هر فرد بالغ نیز یافت می‌شود.
- (۲) قبل از جایگزینی جنین به‌وجود می‌آید، تنها به لایه‌های مختلف جنینی تمایز می‌یابد.
- (۳) در تمام طول عمر انسان باقی می‌ماند، می‌تواند به همه انواع یاخته‌های تخصصی تمایز یابد.
- (۴) در میان یاخته‌های کاملاً تمایز یافته وجود دارد، می‌تواند بعضی از انواع یاخته‌های بدن را به‌وجود آورد.

۱۶۶- چند مورد، در خصوص انقباض طولانی عضله سه سر بازو، به‌طور حتم درست است؟

- همه سرهای میوزین یک سارکومر، در یک جهت حرکت می‌کنند.
- گلوکز یا کراتین فسفات به‌عنوان منبع تأمین انرژی به مصرف می‌رسد.
- با دخالت نوعی ترکیب فسفات‌دار، تغییریری در ساختار مولکول میوزین ایجاد می‌شود.
- مولکول‌های پروتئین پس از صرف انرژی، یون‌های کلسیم را به ماده زمینه‌ای سیتوپلاسم تار عضلاتی وارد می‌نمایند.

(۱) یک (۲) دو (۳) سه (۴) چهار

۱۶۷- کدام مورد، برای تکمیل عبارت زیر نامناسب است؟

«در پی بررسی انواعی از خطاهای کاستمانی (میوزی) که در یک یاخته پیکری انسان به وقوع می‌پیوندد، می‌توان بیان کرد: با فرض این‌که جدا نشدن فام‌تن (کروموزوم)ها در یکی از تقسیمات دوم کاستمان (میوز) صورت بگیرد، زمانی که جدا نشدن فام‌تن‌ها در تقسیم اول کاستمان به انجام برسد، تولید می‌شود»

- (۱) برخلاف - گامت‌های طبیعی
- (۲) نسبت به - گامت‌های متنوع‌تری
- (۳) نسبت به - تعداد کمتری گامت غیرطبیعی
- (۴) همانند - به تعداد گامت‌های طبیعی، گامت‌های غیرطبیعی

۱۶۸- کدام عبارت، در خصوص گیرنده‌های حواس صادق است؟

- (۱) در زنبور عسل، رأس عدسی مخروطی شکل هر واحد بینایی، به سمت بخشی است که در مجاورت آن یاخته‌های گیرنده نور قرار دارند.
- (۲) در جیرجیرک، هر یاخته یا بخشی از آن که تحت تأثیر امواج صوتی قرار می‌گیرد، نوعی گیرنده مکانیکی صدا محسوب می‌شود.
- (۳) در انسان، تغییر مسیر بخشی از آسه (آکسون)‌های عصب بینایی به سمت نیمکره مخ مقابل، در تالاموس رخ می‌دهد.
- (۴) در انسان، هر رشته عصبی فقط با یک گیرنده چشایی زبان ارتباط ویژه برقرار می‌کند.

۱۶۹- کدام عبارت درست است؟

- (۱) افرادی که در ماده ژنتیکی آنها، تغییر ماندگاری ایجاد شده است، به‌طور حتم، توسط انتخاب طبیعی حمایت می‌شوند.
- (۲) افرادی که شانس انتقال ژن‌های خود را به نسل بعد از دست داده‌اند، به‌طور حتم، تحت تأثیر رانش دگره‌ای (الی) قرار گرفته‌اند.
- (۳) افرادی که با انتخاب جفت، موفقیت تولیدمثلی خود را تضمین می‌کنند، به‌طور حتم، فراوانی دگره (الی)‌های جمعیت را تغییر می‌دهند.
- (۴) افرادی که توانایی بقای جمعیت را در شرایط محیطی جدید بالا برده‌اند، به‌طور حتم حاصل فرایند نوترکیبی یا جهش هستند.

۱۷۰- چند مورد درباره پلاسمین درست است؟

- در تبدیل فیبرینوژن به فیبرین نقش اساسی دارد.
 - با کمک پرتوهای ایکس، جایگاه هر اتم آن مشخص می‌شود.
 - می‌تواند در مقادیر اندک، بر مقدار زیادی فیبرین تأثیر بگذارد.
 - فعالیت پلاسمایی خود را در مدت زمان طولانی به انجام می‌رساند.
- (۱) یک (۲) دو (۳) سه (۴) چهار

۱۷۱- کدام مورد، عبارت زیر را به‌طور مناسب کامل می‌کند؟

- به‌طور معمول در یک فرد بالغ، یاخته‌های موجود در دیواره لوله‌های زامه (اسپرم) ساز،»
- (۱) همه - توانایی انجام مراحل زامه (اسپرم)‌زایی را دارند.
 - (۲) همه - مراحل مختلف چرخه یاخته‌ای را به‌طور کامل انجام می‌دهند.
 - (۳) فقط بعضی از - هسته‌ای مرکزی با یک یا دو مجموعه فام‌تن (کروموزوم) دارند.
 - (۴) فقط بعضی از - از یاخته‌هایی با دو مجموعه فام‌تن (کروموزوم) منشأ گرفته‌اند.

۱۷۲- در ارتباط با دوره جنسی یک خانم جوان، کدام مورد، عبارت زیر را به‌طور نامناسب کامل می‌کند؟

«در زمانی که انبالک (فولیکول) در حال رشد»

- (۱) در ابتدای دوره جنسی قرار دارد، ترشح هورمون آزادکننده رو به کاهش است.
- (۲) با یاخته‌های سطحی تخمدان تماس دارد، نخستین جسم قطبی قابل رؤیت است.
- (۳) مام‌یاخته‌ای (اووسیتی) با موقعیت مرکزی دارد، هورمون تخمدانی از ترشح زیاد FSH و LH ممانعت به عمل می‌آورد.
- (۴) شروع به از دست دادن تعدادی از یاخته‌های تغذیه‌کننده‌اش می‌کند، ترشح هورمون استروژن افزایش می‌یابد.

۱۷۳- کدام مورد، عبارت زیر را به طور مناسب کامل می کند؟

«همه جانداران تولیدکننده‌ای که با کمک

- (۱) ترکیبی غیر از آب، مواد آلی می سازند، می توانند در صورت لزوم، رنای بالغ بسازند.
- (۲) سبزینه (کلروفیل) و ماده آلی می سازند، می توانند در مواضع متعدد چندین دوراهی همانندسازی ایجاد کنند.
- (۳) دی اکسید کربن، اکسیژن تولید می کنند، می توانند در محل تشکیل دیواره جدید، صفحه یاخته‌ای تشکیل دهند.
- (۴) واکنش‌های اکسایشی و بدون حضور نور، از مواد معدنی، مواد آلی می سازند، می توانند هم‌زمان با رونویسی، عمل ترجمه را به انجام برسانند.

۱۷۴- چند مورد برای تکمیل عبارت زیر مناسب است؟

«هر دو مرحله از فرایند تشکیل ادرار که دقیقاً در جهت مخالف یکدیگرند، می توانند در یاخته‌هایی از گردپزه (نفرور) انسان به انجام برسند که

- | | |
|-----------------------------------|--|
| • ریز پرزهای فراوان | • با شبکه دور لوله‌ای مجاورت |
| • رشته‌های کوتاه و پامانند فراوان | • راکیزه (میتوکندری)هایی عمود بر غشای یاخته‌ای |
| (۱) یک | (۳) سه |
| (۲) دو | (۴) چهار |

۱۷۵- در خصوص اتفاقات موجود در یک یاخته جانوری فعال، کدام عبارت نادرست است؟

- (۱) هنگام همانندسازی ژن، همواره نوعی آنزیم، مارپیچ دنا (DNA) و دو رشته آن را از هم باز می کند.
 - (۲) هنگام همانندسازی ژن، تشکیل پیوند فسفواستر همواره کمی قبل از شکسته شدن پیوند اشتراکی رخ می دهد.
 - (۳) پس از ترجمه، با تغییر pH می توان گروه‌های R آمینواسیدهای یک پروتئین را در وضعیت جدیدی قرار داد.
 - (۴) در یک رنای ناقل (tRNA)، سرانجام دو ناحیه دارای نوکلئوتیدهای غیرمکمل در مجاورت هم قرار می گیرند.
- ۱۷۶- تعدادی از جانداران، برای تأمین انرژی از گلوکز، اسید دو فسفات را طی مراحل به ترکیب دو کربنی تبدیل می کنند. در همه این جانداران، طی این مراحل کدام مورد رخ می دهد؟

- | | |
|--|---|
| (۱) NAD^+ مصرف و CO_2 آزاد می شود. | (۲) ADP مصرف و CO_2 آزاد می شود. |
| (۳) ATP تولید و $NADH$ مصرف می شود. | (۴) NAD^+ تولید و $NADH$ مصرف می شود. |

۱۷۷- کدام عبارت درباره دستگاه ایمنی انسان درست است؟

- (۱) هر پروتئین مکمل ضمن فعالیت به دو نوع پروتئین متصل می شود.
- (۲) بعضی از پادگن (آنتی ژن)ها، به انواعی از گیرنده‌های پادگنی یک لنفوسیت متصل می شوند.
- (۳) بعضی از پادتن‌ها، از محلی غیر از جایگاه اتصال به پادگن (آنتی ژن)، به نوعی پروتئین متصل می شوند.
- (۴) هر یاخته بیگانه‌خوار با قرار دادن قسمت‌هایی از میکروب در سطح خود، آن را به انواعی از یاخته‌های ایمنی ارائه می دهد.

۱۷۸- مطابق با اطلاعات کتاب درسی، چند مورد برای تکمیل عبارت زیر مناسب است؟

«در انسان، آن دسته از تغییرات بزرگ ساختاری در ماده ژنتیکی که.....»

- فقط در یک فام تن (کروموزوم) رخ می دهد، ممکن است بر تغییر محل سانترومر آن فام تن بی تاثیر باشد.
- مضاعف شدگی نامیده می شود، به طور حتم، در پی وقوع دو نوع ناهنجاری فام تنی (کروموزومی) رخ می دهد.
- فقط در بین فام تن (کروموزوم) های همتا ایجاد می شود، ممکن است ترکیب دگرهای (الی) آن فام تن ها را تغییر دهد.
- بر تغییر طول یک فام تن (کروموزوم) مؤثر است، به طور حتم، در فام تن همتا یا فام تن غیرهمتای آن، تغییر ساختاری ایجاد می کند.

(۱) یک (۲) دو (۳) سه (۴) چهار

۱۷۹- کدام مورد، برای تکمیل عبارت زیر، نامناسب است؟

«در همه جاندارانی که.....»

- ۱) با ریشه گیاهان رابطه همزیستی دارند، رنای پیک در حین یا پس از رونویسی دستخوش پیرایش می شود.
- ۲) می توانند نقل همانندسازی را دریافت و تکثیر کنند، نوعی رنا (RNA) در کاهش انرژی فعال سازی واکنش ها نقش دارد.
- ۳) با استفاده از بخش های رویشی تکثیر می یابند، مولکول های حامل الکترون در ماده زمینه سیتوپلاسم یاخته تولید می شوند.
- ۴) فام تن (کروموزوم) اصلی موجود در سیتوپلاسم آنها به غشای یاخته اتصال دارد، آنزیم رنابسپاراز، راه انداز تمام ژن ها را شناسایی می کند.

۱۸۰- چند مورد، در خصوص یک یاخته سالم و فعال انسان درست است؟

- پروتئین های غیرترشعی پس از ساخته شدن، به طور حتم جزئی از ساختار یک اندامک می شوند.
- آنزیم های کافنده تن (ایزوزوم)، حین ساخته شدن از سر آمینی خود به شبکه آندوپلاسمی وارد می شوند.
- پروتئین خارج شده از شبکه آندوپلاسمی زیر، به سطحی از دستگاه گلژی وارد می شود که از غشای یاخته دورتر است.
- پروتئین هایی که به درون ماده زمینه ای سیتوپلاسم آزاد می شوند، به طور حتم، توسط رناتن (ریبوزوم) های همان یاخته ساخته شده اند.

(۱) یک (۲) دو (۳) سه (۴) چهار

Dareshti Karaj